



Ce document a été mis en ligne par l'organisme [FormaV®](#)

Toute reproduction, représentation ou diffusion, même partielle, sans autorisation préalable, est strictement interdite.

Pour en savoir plus sur nos formations disponibles, veuillez visiter :

www.formav.co/explorer

CORRIGE

Ces éléments de correction n'ont qu'une valeur indicative. Ils ne peuvent en aucun cas engager la responsabilité des autorités académiques, chaque jury est souverain.

Q1-1

| Liaison | Type | Repérage liaison | | Liaison | Type | Repérage liaison |
|---------|-----------|------------------|--|---------|-----------|------------------|
| L 6/0 | glissière | Axe N,x | | L7b/4 | rotule | Centre F |
| L 4/6 | pivot | Axe E,y | | L7a/7b | glissière | FG |
| L 2/6 | rotule | Centre B | | | | |
| L 2/1 | rotule | Centre C | | | | |
| L 1/3 | rotule | Centre K | | | | |
| L 1/0 | rotule | Centre A | | | | |
| L 3/4 | rotule | Centre D | | | | |
| L 7a/6 | rotule | Centre G | | | | |

Q1-2

| Mouvement | |
|-----------|-------------|
| 1/0 | rotation |
| 6/0 | translation |
| 4/6 | rotation |
| 2/6 | rotation |
| 7a/7b | translation |

Q1-3

TC(1/0)= arc de cercle de centre A et de rayon CA

TB(6/0)= droite horizontale de direction bx

TD(4/6)=arc de cercle de centre E de rayon ED

Q1-5

La course est de 540mm

Le véhicule est un L3H2, le volume utile est de 12.6 m^3 Le volume occupé par le siège déplié est $0.54 \times 1.764 \times 1.91 = 1.82 \text{ m}^3$ variation de $1.82 \times 100 / 12.6 = 14.5\%$

Q1-7

Attention lorsque le siège est repliée, la tige du vérin sort mais n'est pas en butée, donc E doit être $> 570 \text{ mm}$

sur DT5: aucun vérin

sur DT6: 4 choix de E 585 à 885 (518523 à 518526)

sur DT7: 4 choix de E 585 à 885 (512523 à 512526)

sur DT8: 1 choix e=585 (588539)

Tous ces vérins conviennent puisque leur course est supérieure à 100mm.

Q2-1

On utilise le théorème du moment statique (Attention il y a 2 vérins)

$$2\overrightarrow{M_E(\overrightarrow{F_{7/4}})} + \overrightarrow{M_E(\overrightarrow{P})} + \overrightarrow{M_E(\overrightarrow{F_r})} + \overrightarrow{M_E(\overrightarrow{D_{3/4}})} = \vec{0}$$

$$E\vec{y}: 100F_{7/4} - 180P + 420Fr - 316D_{3/4} = 0$$

$$F_{7/4} = \frac{180P - 420Fr + 316D_{3/4}}{100} = \frac{180.400 - 420.100 + 316.180}{100} = 868.8N$$

Q2-2

La course maxi du vérin sur le DT6 est 250mm

la course résiduelle est 250-100 (course utile)=150mm

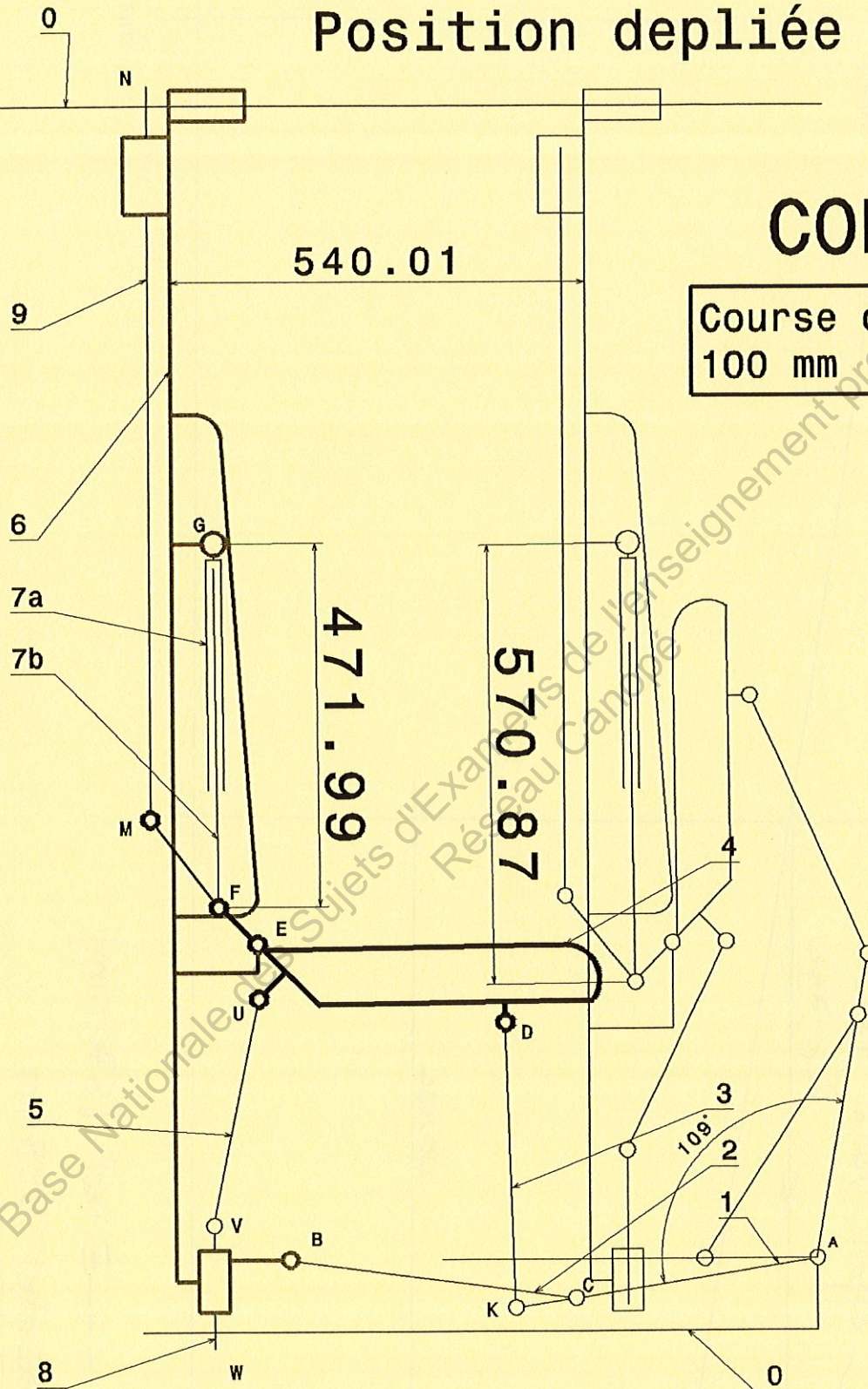
Q2-3

Le vérin est en sortie de tige


Position dépliée

CORRIGE

Course du verin
100 mm



Document réponse DR2



Document réponse DR4

Q : 3-1 : Détermination de la décélération lors du crash.

Déterminer la valeur de la décélération, notée γ :

$$2 \cdot \gamma \cdot (x_f - x_0) = V_f^2 - V_0^2$$

$$2 \cdot \gamma \cdot 0,6 = (67/3,6)^2 - 0^2$$

$$\gamma = 18,61^2/1,2$$

$$\gamma = 288,64 \text{ m.s}^{-2}$$

Q : 3-2 : Détermination des forces d'inerties.

Déterminer les forces d'inertie appliquées en G_{pass} et en G_{flexi} dues à la décélération du choc :

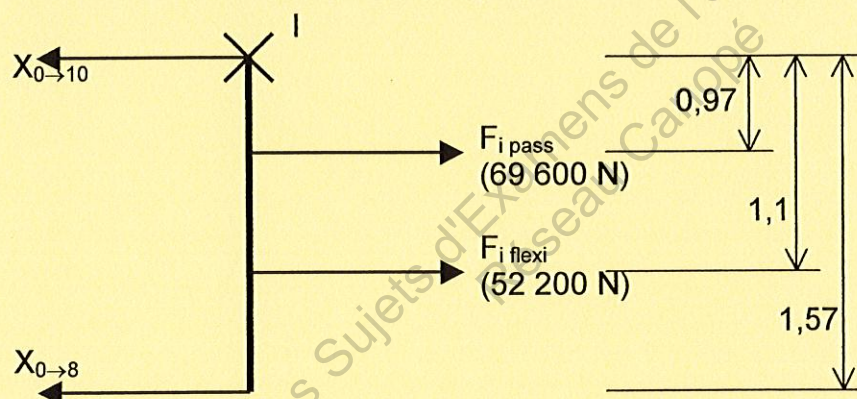
$$F_{i\text{pass}} = m_{\text{pass}} \cdot \gamma = 240 \times 290 = 69\,600 \text{ N} \quad (\text{vecteur de 7 cm})$$

$$F_{i\text{flexi}} = m_{\text{flexi}} \cdot \gamma = 180 \times 290 = 52\,200 \text{ N} \quad (\text{vecteur de 5,2 cm})$$

Q : 3-3 : Détermination des efforts de cisaillement.

Déterminer les actions exercées par la caisse sur les barres de verrouillage par le P.F.D. :

Application du principe des bras de levier autour de (I, γ) :



$$X_{0 \rightarrow 8} = (0,97 \times 69\,600) + (1,1 \times 52\,200) = (67\,512) + (57\,420) = 79\,574,5 \text{ N} \quad (\text{vecteur de 8 cm})$$

$$\begin{array}{ccc} & 1,57 & 1,57 \\ \hline & & \end{array}$$

Application du théorème de la résultante en projection sur X :

$$X_{0 \rightarrow 10} = F_{i\text{pass}} + F_{i\text{flexi}} - X_{0 \rightarrow 8} = 69\,600 + 52\,200 - 79\,574,5 = 42\,225,5 \text{ N} \quad (\text{vecteur de 4,2 cm})$$

Q : 3-4 : Vérification des barres de verrouillage au cisaillement.

Déterminer les contraintes de cisaillement dans les barres de verrouillage 8 et 10 :

$$\sigma_{c8} = \frac{X_{0 \rightarrow 8}}{2 \times S} = \frac{X_{0 \rightarrow 8}}{2(C^2 - c^2)} = \frac{79\,574,5}{2(16^2 - 12^2)} = 355,24 \text{ MPa}$$

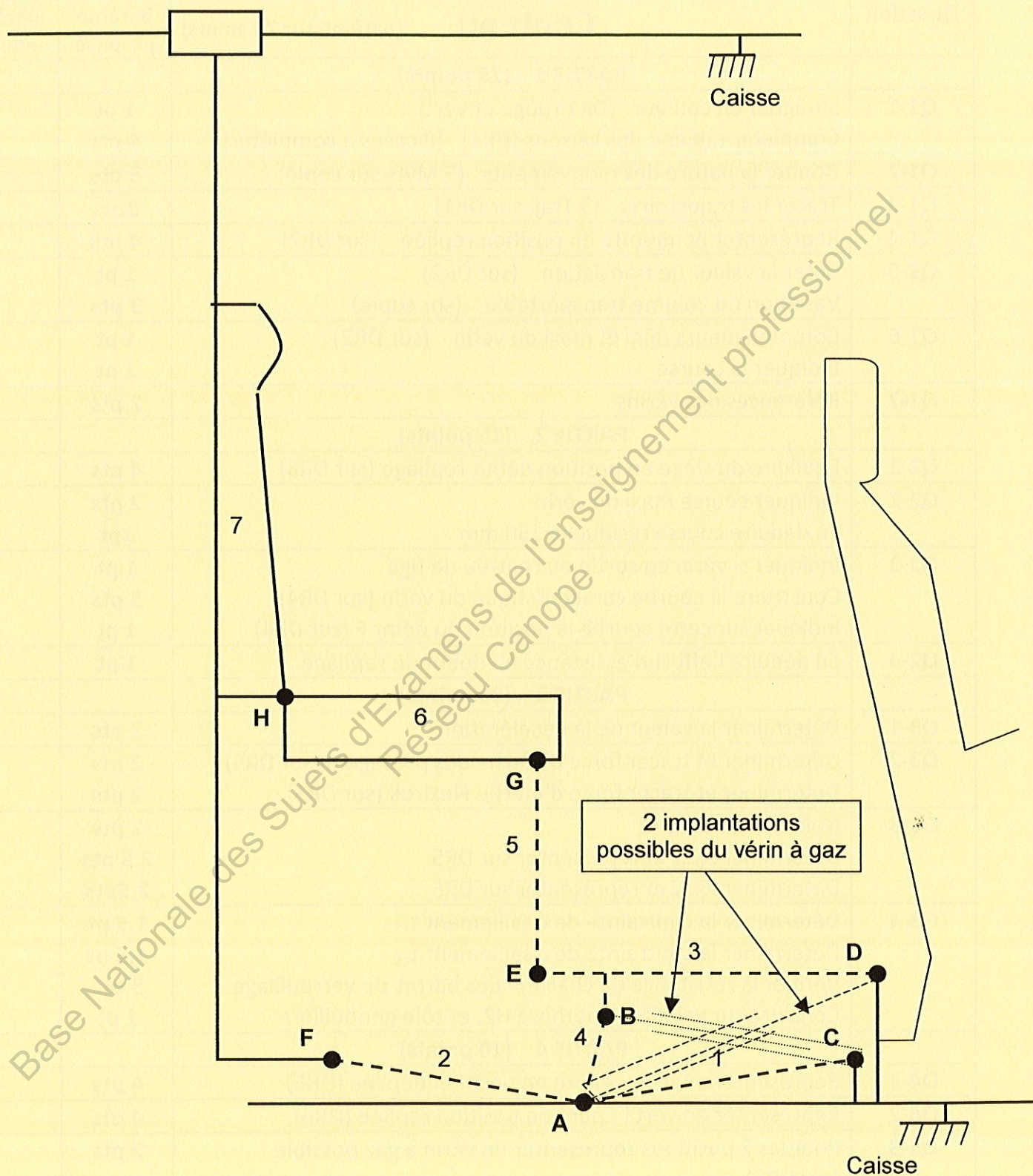
$$\sigma_{c10} = \frac{X_{0 \rightarrow 10}}{2 \times S} = \frac{X_{0 \rightarrow 10}}{2(C^2 - c^2)} = \frac{42\,225,5}{2(16^2 - 12^2)} = 188,5 \text{ MPa}$$

Vérifier la résistance de chacune des barres de verrouillage :

$\sigma_{c8} = 355,24 \text{ MPa} > R_{e_g} = 345 \text{ MPa}$ il y a dépassement de la limite élastique du matériau, la barre de verrouillage repère 8 présente un risque de rupture.

$\sigma_{c10} = 188,5 \text{ MPa} < R_{e_g} = 345 \text{ MPa}$ le matériaux résiste sans déformation permanente.

Conclusion : l'hypothèse **H2** selon laquelle la genouillère 1+2 n'encaisse pas d'effort lors du crash test n'est pas valide puisque la barre de verrouillage 8 (située en bas) ne peut pas supporter les efforts qui lui sont appliqués.



Echelle 1 mm pour 10 mm

DR6

7/8

BAREME CONDUITE DE PROJET

SUJET FLEXIROLL

| Question | Contenu (barème sur 70 points) | Barème proposé | Barème adopté |
|-----------------------------|---|-----------------------------------|---------------|
| PARTIE 1 (25 points) | | | |
| Q1-1 | Surligner en couleur (DR1 rouge et vert) Compléter tableau des liaisons (DR1) (8 cases à compléter) | 1 pt 4 pts | |
| Q1-2 | Donner la nature des mouvements (5 Mvts sur copie) | 5 pts | |
| Q1-3 | Tracer les trajectoires (3 Traj. sur DR1) | 3pts | |
| Q1-4 | Représenter banquette en position repliée (sur DR2) | 4 pts | |
| Q1-5 | Coter la valeur de translation (sur DR2) Variation du volume transportable (sur copie) | 1 pt 3 pts | |
| Q1-6 | Coter longueurs mini et maxi du vérin (sur DR2) Indiquer la course | 1 pt 1 pt | |
| Q1-7 | Références des vérins | 2 pts | |
| PARTIE 2 (15 points) | | | |
| Q2-1 | Equilibre du siège en position début repliage (sur DR3) | 4 pts | |
| Q2-2 | Indiquer course maxi du vérin En déduire course résiduelle 150 mm | 2 pts 1pt | |
| Q2-3 | Indiquer si vérin en sortie ou rentrée de tige Construire la courbe caractéristique du vérin (sur DR4) Indiquer sur cette courbe la position du point F (sur DR4) | 1 pt 5 pts 1 pt | |
| Q2-4 | En déduire l'effort d'assistance en début de repliage | 1 pt | |
| PARTIE 3 (20 points) | | | |
| Q3-1 | Déterminer la valeur de la décélération | 2 pts | |
| Q3-2 | Déterminer et tracer force d'inertie des passagers (sur DR5) Déterminer et tracer force d'inertie Flexiroll (sur DR5) | 2 pts 2 pts | |
| Q3-3 | Isoler l'ensemble M Déterminer $X_{0 \rightarrow 9}$ et représenter sur DR5 Déterminer $X_{0 \rightarrow 8}$ et représenter sur DR5 | 2 pts 2,5 pts 2,5pts | |
| Q3-4 | Déterminer la contrainte de cisaillement τ_{c8} Déterminer la contrainte de cisaillement τ_{c9} Vérifier la résistance de chacune des barres de verrouillage Conclure sur validité hypothèse H2, et rôle genouillère | 1,5 pt 1,5 pt 3 pts 1 pt | |
| PARTIE 4 (10 points) | | | |
| Q4-1 | Représenter en bleu l'épure en position dépliée (DR6) | 4 pts | |
| Q4-2 | Représenter en vert l'épure en position repliée (DR6) | 4 pts | |
| Q4-3 | Pour les 2 positions représenter un vérin à gaz possible (sur DR6) | 2 pts | |
| | | | |
| | | | |
| | | | |

Copyright © 2026 FormaV. Tous droits réservés.

Ce document a été élaboré par FormaV® avec le plus grand soin afin d'accompagner chaque apprenant vers la réussite de ses examens. Son contenu (textes, graphiques, méthodologies, tableaux, exercices, concepts, mises en forme) constitue une œuvre protégée par le droit d'auteur.

Toute copie, partage, reproduction, diffusion ou mise à disposition, même partielle, gratuite ou payante, est strictement interdite sans accord préalable et écrit de FormaV®, conformément aux articles L.111-1 et suivants du Code de la propriété intellectuelle. Dans une logique anti-plagiat, FormaV® se réserve le droit de vérifier toute utilisation illicite, y compris sur les plateformes en ligne ou sites tiers.

En utilisant ce document, vous vous engagez à respecter ces règles et à préserver l'intégrité du travail fourni. La consultation de ce document est strictement personnelle.

Merci de respecter le travail accompli afin de permettre la création continue de ressources pédagogiques fiables et accessibles.

Copyright © 2026 FormaV. Tous droits réservés.

Ce document a été élaboré par FormaV® avec le plus grand soin afin d'accompagner chaque apprenant vers la réussite de ses examens. Son contenu (textes, graphiques, méthodologies, tableaux, exercices, concepts, mises en forme) constitue une œuvre protégée par le droit d'auteur.

Toute copie, partage, reproduction, diffusion ou mise à disposition, même partielle, gratuite ou payante, est strictement interdite sans accord préalable et écrit de FormaV®, conformément aux articles L.111-1 et suivants du Code de la propriété intellectuelle. Dans une logique anti-plagiat, FormaV® se réserve le droit de vérifier toute utilisation illicite, y compris sur les plateformes en ligne ou sites tiers.

En utilisant ce document, vous vous engagez à respecter ces règles et à préserver l'intégrité du travail fourni. La consultation de ce document est strictement personnelle.

Merci de respecter le travail accompli afin de permettre la création continue de ressources pédagogiques fiables et accessibles.